

МУНИЦИПАЛЬНЫЙ СТАДИОН ВСЕРОССИЙСКОЙ ОЛИМПИАДЫ ШКОЛЬНИКОВ  
 СТАВРОПОЛЬСКИЙ КРАЙ  
 в 2022/23 уч. году

ОБЩЕСТВОЗНАНИЕ

Предмет	Класс	Время (мин)	Всего баллов	Количество баллов за задание										2 тур	
				Задание 1	Задание 2	Задание 3	Задание 4	Задание 5	Задание 6	Задание 7	Задание 8	Задание 9	Задание 10		
Обществознание			40	7	0	0	4	4	0	0	0	6	8	-	-

*Учитель математики: В.А.С.*  
*Учитель информатики: В.А.С.*  
*Учитель русского языка: В.А.С.*  
*Учитель истории: В.А.С.*  
*Учитель физики: В.А.С.*  
*Учитель химии: В.А.С.*  
*Учитель биологии: В.А.С.*  
*Учитель ИЗО: В.А.С.*  
*Учитель музыки: В.А.С.*  
*Учитель ОБЖ: В.А.С.*  
*Учитель технологии: В.А.С.*  
*Учитель математики: В.А.С.*  
*Учитель информатики: В.А.С.*  
*Учитель русского языка: В.А.С.*  
*Учитель истории: В.А.С.*  
*Учитель физики: В.А.С.*  
*Учитель химии: В.А.С.*  
*Учитель биологии: В.А.С.*  
*Учитель ИЗО: В.А.С.*  
*Учитель музыки: В.А.С.*  
*Учитель ОБЖ: В.А.С.*  
*Учитель технологии: В.А.С.*

ВСЕРОССИЙСКАЯ ОЛИМПИАДА ШКОЛЬНИКОВ ПО ОБЩЕСТВОЗНАНИЮ

МУНИЦИПАЛЬНЫЙ ЭТАП  
ОСНОВНОЙ/ПЕРВЫЙ ТУР  
возрастная группа (9 класс)

Уважаемый участник олимпиады!

Перед Вами 9 заданий муниципального этапа всероссийской олимпиады школьников по обществознанию.

Для их выполнения у Вас есть 60 минут.

Задания считаются выполненными, если Вы вовремя сдали их членам жюри.

Внимательно читайте текст заданий. Сдержанные ответы вписывайте в отведённые поля, записи ведите четко и разборчиво.

При выполнении заданий можно пользоваться черновиком. Записи в черновике не учитываются при оценивании работ.

За каждый правильный ответ Вы можете получить определённое количество жюри количество баллов, не выше указанной в сводной таблице максимальная оценка.

Баллы, полученные Вами за выполненные задания, суммируются.

Максимально возможное количество баллов за работу — 100.

Ставропольский край

Муниципальный этап всероссийской олимпиады школьников

2022/23 учебного года

ОБЩЕСТВОЗНАНИЕ

9 класс

Максимальный балл за работу — 100.

Длительность этапа всероссийской олимпиады школьников составляет:

9 класс — 60 минут.

1. «Да» или «нет»? Если вы согласны с утверждением, напишите «да», если не согласны — «нет». Внесите свои ответы в таблицу.

1. Введение таможенных пошлин стимулирует внутреннее потребление в стране.

2. Компьютерные игры являются продуктом современной массовой культуры.

3. Духовные потребности свойственны человеку с рождения.

4. К отклоняющемуся поведению может привести максимальная кооперация человека на служении определенной идее.

5. Термином «либеральная демократия» обозначается демократический режим в государстве, не признающем либеральные ценности.

6. Мысленное или реальное расчленение объекта на элементы называется синтезом.

7. Вмешательство третьей стороны является одним из эффективных способов разрешения конфликтов.

8. Цвета Георгиевской ленточки повторяют цвета флага Черноморского флота СССР в память об обороне Севастополя (1941–1942).

9. Всегда, если у кого-то есть субъективное право, то у другого есть соответствующая субъективная юридическая обязанность.

10. Расходы отечественной фирмы, работающей на территории данной страны, на стоимость сырья, закупаемого за границей, включаются в величину добавленной стоимости, созданной в процессе производства товара А этой фирмой.

Ответы:

1	2	3	4	5	6	7	8	9	10
---	---	---	---	---	---	---	---	---	----

На выполнение заданий этого типа 7–15 минут в зависимости от сложности

задания и количества элементов ответа.

Максимально возможное количество баллов за задание – 10 баллов.

2. Соотнесите фрагменты сочинений учёных – экономистов и экономические учения, к которым они относятся. Ответы внесите в таблицу на бланке работы.

ФРАГМЕНТЫ СОЧИНЕНИЙ		ЭКОНОМИЧЕСКИЕ УЧЕНИЯ
А) Система рыночных экономических отношений не является совершенной и саморегулируемой, она внутренне нестабильна, и её нормальным состоянием является вынужденная безработица. Поэтому максимальное возможную занятость и экономический рост может обеспечить только активное вмешательство государства.	в	1) меркантилизм 2) меркантилизм 3) кейнсианство 4) монетаризм 5) физиократия
Б) Рынки по своей сути стабильны при отсутствии значительных непредвиденных колебаний денежной массы. Государственное вмешательство во многих случаях может скорее дестабилизировать экономику, чем способствовать её развитию. Рыночная экономика – саморегулирующая система.	д	

3

диспропорции и другие отрицательные её проявления связаны с избыточным присутствием государства в экономике. Поэтому регулирующая роль государства в экономике должна быть ограничена контролем над денежным обращением. Увеличение денежной массы в конечном итоге ведёт к росту цен и инфляции. Инфляция должна быть подавлена любыми средствами, в том числе и с помощью сокращения социальных программ. Естественный уровень безработицы позитивно влияет на экономику страны, удерживает в стабильном состоянии реально заработную плату и уровень цен.

В) В создании любой стоимости участвует только один фактор – рабочий, владелец рабочей силы. Наёмный рабочий получает за свой труд заработную плату. Заработная плата оплачивает не труд, она служит формой оплаты специфического товара «рабочая сила». Особенность рабочей силы заключается в том, что она имеет свойство создавать продукт (товар), стоимость которого выше стоимости самой рабочей силы, т. е. того, что необходимо для поддержания жизни рабочего и членов его семьи. Рабочий обязан работать, большее количество часов, чем необходимо для создания товаров, эквивалентных количеству потребных жизненных средств. Владелец предприятия, нанмая рабочего, оплачивает его способность к труду и приобретает право заставить его трудиться сверх того времени, которое необходимо рабочему для покупки некоторого

4

Минимума жизненных средств. В результате образуется разница между стоимостью произведенного трудом рабочего товара и стоимостью рабочей силы – заработной платой. Эта разница и представляет собой прибавочную стоимость – часть материализованного в товаре труда рабочего, безвозмездно присваиваемого владельцем предприятия

Ответ:

А	Б	В
---	---	---

На выполнение заданий этого типа 7–15 минут в зависимости от сложности задания и количества элементов ответа.

Максимально возможное количество баллов за задание – 9 баллов.

**3. Исправьте ошибки, допущенные в тексте.**

Законодательное собрание Ямало-Ненецкого автономного округа решило принять новый основной закон автономного округа – конституцию (1). В конституции редакторы проекта решили закрепить единственными государственными языком (2) автономного округа – ненецкий язык, который может использоваться в органах государственной власти, местного самоуправления и государственных учреждениях автономного округа.

Укажите на допущенные ошибки и исправьте их.

Ответ:

1.

---



---



---



---

Ответ:

**2.**

---



---



---



---

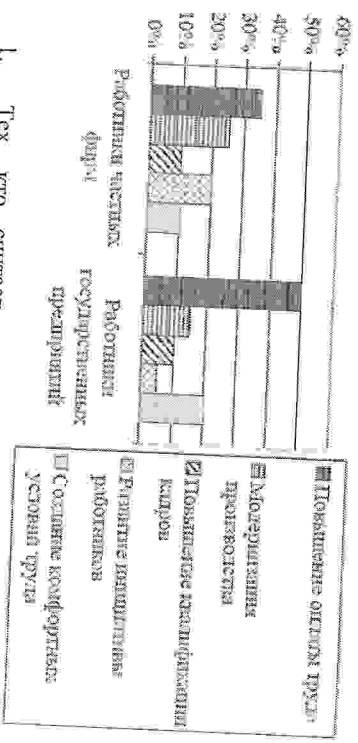


---

На выполнение заданий этого типа 7–15 минут в зависимости от сложности задания и количества элементов ответа.

Максимально возможное количество баллов за задание – 8 баллов.

**4. Проанализируйте диаграмму. Оцените сделанные выводы. Вы можете согласиться с каждым выводом или опровергнуть его. Своё мнение необходимо подтвердить данными диаграммы.**



1. Тех, кто считает повышение оплаты труда эффективным способом, больше среди работников государственных предприятий

2. Равные доли работников частных фирм считают создание комфортных условий труда и повышение квалификации работников наиболее эффективными способами увеличения производительности труда

---



---



---

3. Значение модернизации производства в качестве метода повышения производительности труда для работников частных фирм ниже, чем для работников государственных предприятий

---



---



---

На выполнение заданий этого типа 7–15 минут в зависимости от сложности задания и количества элементов ответа.

Максимально возможное количество баллов за задание – 6 баллов.

5. Решите логическую задачу.

Света, Зина, Галия, Тая рисовали цветы. Одна рисовала красным карандашом, трое других - синими. Галия и Зина рисовали карандашами разного цвета, Зина и Тая - тоже. Двое из них рисовали васильки, а другие - колокольчики. Кто что рисовал, если Зина и Тая рисовали одинаковые цветы, а Зина рисовала василек?

Ответ:

---



---



---



---



---



---



---

На выполнение заданий этого типа 7–15 минут в зависимости от сложности задания и количества элементов ответа.

Максимально возможное количество баллов за задание – 8 баллов.

6. Соотнесите высказывание и его автора, составив в незаполненной таблице номер, под которым указан автор, напротив буквы, под которой дано

7

высказывание. Обратите внимание на то, что имен дано больше, чем высказываний.

Высказывания	Авторы
А. «Свободным ролится человек — и везде он закован в железо»	1. Ш. Монтескье
Б. «Много есть чудес на свете, Человек — их всех чудесней»	2. Ф. Бэкон
В. «Человек управляется неизменными законами, как существо, одаренное умом, он беспрестанно нарушает законы, установленные Богом, и изменяет те, которые сам установил»	3. Софокл
Г. «Надо много пережить, чтобы стать человеком»	4. Р. Декарт
Д. «Человек часто скрывает свою сущность, иногда ее преодолевает и очень редко поддается»	5. Вольтер
	6. Конфуций
	7. Ж.-Ж. Руссо
	8. А. Эзюпери

Ответ:

Высказы вания	Авторы
А	
Б	
В	
Г	
Д	

На выполнение заданий этого типа 7–15 минут в зависимости от сложности задания и количества элементов ответа.

Максимально возможное количество баллов за задание – 10 баллов.

7. Экономическая задача.

В экономике страны производится две группы товаров: А (потребительский товар) и В (средство производства). В текущем году было произведено 500 единиц товара А (цена за единицу – 2 ден. ед.) и 20 единиц товара В (цена за единицу – 10

8

Ден. ед.). К концу текущего года пять используемых машин (товар В) должны быть заменены новыми.

Рассчитать:

1. Величину ВВП (валовой национальный продукт), ЧНП (чистый национальный продукт).
2. Объем потребления (С).
3. Объем валовых (I<sub>в</sub>) и чистых инвестиций (I<sub>ч</sub>).

Ответ:

1. Величина ВВП равна – \_\_\_\_\_
2. Величина ЧНП равна – \_\_\_\_\_
3. Объем потребления равен (С) – \_\_\_\_\_
3. Объем валовых инвестиций равен (I<sub>в</sub>) – \_\_\_\_\_
- Объем чистых инвестиций равен (I<sub>ч</sub>) – \_\_\_\_\_

На выполнение заданий этого типа 7–15 минут в зависимости от сложности задания и количества элементов ответа.

Максимально возможное количество баллов за задание – 5 баллов.

#### 8. Решите тестовые задания.

8.1. Примером какого вида деятельности являются приветственные меры по улучшению социального обеспечения пенсионеров?

1. Материально-производственной
2. Социально-преобразовательной
3. Ценностно-ориентировочной
4. Прогностической

8.2. Какая отличительная черта свойства эластичности экранированной культуры?

1. Создание новой, виртуальной реальности
2. Доступность подготовленному потребителю
3. Нацеленность на социальную базу
4. Объективное отражение социальному миру

8.3. Потребитель в условиях рыночной экономики:

1. Обеспечивает честность предпринимательских сделок
2. Решает вопрос, что и как производить
3. Стимулирует увеличение затрат производства

4. Влияет на установление рыночных цен

8.4. Социальная общность людей, занимающих промежуточное положение по отношению к представителям, устойчивых социальных групп, называется:

1. Элитой
2. Маргиналами
3. Домэнкатурой
4. Ломанами

8.5. Идея построения общества, в котором был бы реализован принцип распределения благ «от каждого – по способностям, каждому – по потребностям», характерна для системы:

1. Папифисткой
2. Либеральной
3. Коммунистической
4. Консервативной

8.6. Какой вид уголовного наказания может быть применен к несовершеннолетнему?

1. Пожизненное лишение свободы
2. Лишение свободы сроком на 15 лет
3. Отбывание наказания в колонии строгого режима
4. Меры воспитательного воздействия

8.7. Верны ли следующие суждения:

А) Бездействие человека не может являться юридическим фактом, так как не может причинить вред.

Б) Правомерные действия соответствуют требованиям закона.

1. Верно только А
2. Верно только Б
3. Верны оба суждения
4. Оба суждения не верны

8.8. Увеличение размера государственных пенсий является примером:

1. Кредитно-денежной политики
2. Монетарной политики
3. Фискальной политики
4. Антимонопольного законодательства

8.9. Самой молодой из перечисленных религий является:

1. Ислам
2. Язычество
3. Христианство
4. Буддизм

8.10. Какой из указанных признаков характеризует государство тоталитарного типа?

1. Внеурядное преследование оппозиционных движений
2. Разделение и независимость ветвей власти
3. Свободное распространение информации по каналам средств массовой информации
4. Регулярные конкурентные выборы в представительные органы всех уровней

8.11. Международное гуманитарное право – это свод норм, применяемых при возникновении конфликтов.

1. В сфере здравоохранения
2. В сфере образования
3. Во время ведения войн
4. В сфере трудовых отношений

8.12. Верны ли следующие суждения:

А) Все социальные нормы возникают и действуют только в малых группах.  
 Б) Традиции и обычаи станут социальными нормами при условии, что будут записаны.

1. Верно только А
2. Верно только Б
3. Верны оба суждения
4. Оба суждения не верны

8.13. Какой термин отражает своеобразное сочетание биологических и социальных особенностей человека?

1. Индивид
2. Субъект
3. Индивидуальность
4. Личность

8.14. Для традиционного общества не характерно:

1. Преследование государственной и общинной собственности
2. Рациональное восприятие мира
3. Стремление жить в гармонии с природой

11

4. Подчинение личности обществу

Ответы:





- 8.1 - \_\_\_\_\_
- 8.2 - \_\_\_\_\_
- 8.3 - \_\_\_\_\_
- 8.4 - \_\_\_\_\_
- 8.5 - \_\_\_\_\_
- 8.6 - \_\_\_\_\_
- 8.7 - \_\_\_\_\_
- 8.8 - \_\_\_\_\_
- 8.9 - \_\_\_\_\_
- 8.10 - \_\_\_\_\_
- 8.11 - \_\_\_\_\_
- 8.12 - \_\_\_\_\_
- 8.13 - \_\_\_\_\_
- 8.14 - \_\_\_\_\_

На выполнение заданий этого типа 7–15 минут в зависимости от сложности задания и количества элементов ответа.


Максимально возможное количество баллов за задание – 14 баллов.

9. Вам представлены изображенные архитектурных и иных объектов. Разделите эти изображения на пять групп в соответствии с их назначением, назовите эти группы. Запишите рядом с названием группы буквенные обозначения соответствующих ей объектов.



12




K




K




K



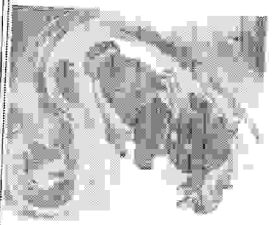
K



K




K



H



H



O

H



Ответ:

Группа 1: музей. Изображения:

Группа 2: оборонительные сооружения (замки, крепости). Изображения:

Группа 3: жилища. Изображения:

Группа 4: мемориальные комплексы, посвященные Великой Отечественной войне. Изображения:

Группа 5: иллюстрация к русским народным сказкам. Изображения:

На выполнение заданий этого типа 7–15 минут в зависимости от сложности задания и количества элементов ответа.

**Максимально возможное количество баллов за задание – 10 баллов.**

**ВСЕРОССИЙСКИЙ ОЛИМПИАДА ШКОЛЬНИКОВ ПО  
ОБЩЕСТВОЗНАНИЮ  
МУНИЦИПАЛЬНЫЙ ЭТАП  
ВТОРОЙ ТУР  
(9 класс)**

*Уважаемый участник олимпиады!*

Напишите эссе на одну из предложенных тем.

Ваша задача - обозначить и пояснить сущность проблемы, сформулировать своё собственное отношение к проблеме, подытожить в данном утверждении, я обосновать его теми теоретическими и фактическими аргументами (1 аргумент), которые представляются Вам наиболее существенными.

В своем сочинении обязательно укажите, с позиции какой базовой науки (культурологии, политологии, социологии, философии, экономики, журналистики) Вы будете её рассматривать.

При написании эссе можно пользоваться черновиком. Записи в черновике не учитываются при оценивании работы.

Для написания эссе у Вас есть 60 минут.

Задание считается выполненным, если Вы вовремя сдали его членам жюри.

**Максимально возможное количество баллов за работу – 20 баллов.**

**Темы**

1. «Прогрессе технологии одарят нас все более совершенными средствами для движения вперед» (О. Хаксли).
2. «При согласии и малые дела вырастают в большие, при разногласии и большие раттадаются» (Саллюстий).
3. «Чем ярче проявляется индивидуальность, тем больше стремится она к единению со всеми существами» (Р. Тагор).
4. «Займите место и положение, подберите вам, и все признают это» (Р. Эмерсон).
5. «Трагедия – это прогрессе в минувшем; в будущем прогрессе станет трагедией» (Э. Эррио).
6. «Бизнес – увлекательнейшая игра, в которой максимум азарта сочетается с минимумом правил» (Б. Гейтс).

7. «Нажить много денег – храбрость, сохранить их – мудрость, а умело расходовать – искусство» (А. Вертольда).
8. «Во всем нужна мера» (Солон).
9. «Законы обвязаны своей силой нравам» (К. Гельций).
10. «Демократия – это когда люди управляют людьми во благо людей» (А. Линкольн).

1. Ответы:

1.	2.	3.	4.	5.	6.	7.	8.	9.	10.
НЕТ	ДА	НЕТ	ДА	ДА	НЕТ	ДА	ДА	НЕТ	НЕТ

2. Ответы:

A	B
2	4

3. Ответ: 1.  
 1. Нет, так как конкурсы проводятся ежегодно, а конкурс сё не.

2.  
 \_\_\_\_\_  
 \_\_\_\_\_  
 \_\_\_\_\_  
 \_\_\_\_\_

4. Ответ: 1.  
 1. Да, так как конкурсы проводятся ежегодно, а конкурс сё не проводится раз в несколько лет.  
 2. Конкурс проводится ежегодно, а конкурс сё не проводится раз в несколько лет.

18. Работники частного предприятия в целях экономии средств решили приобрести для своих работников продукцию фирмы "Торус". Это предприятие имеет лицензию, выданную в 1991 году. Работники предприятия в 1991 году приобрели продукцию.

5. Ответ: 1.  
 1. Да, так как предприятие является лицензированным, а лицензия выдана в 1991 году.

6. Ответ:

Высказывания	Авторы
A	5
B	8
B	6
Г	2
Д	4

7. Ответ:  
 \_\_\_\_\_  
 \_\_\_\_\_  
 \_\_\_\_\_  
 \_\_\_\_\_  
 \_\_\_\_\_



[Blank lined writing area]

[Blank lined writing area]

